

2024年度

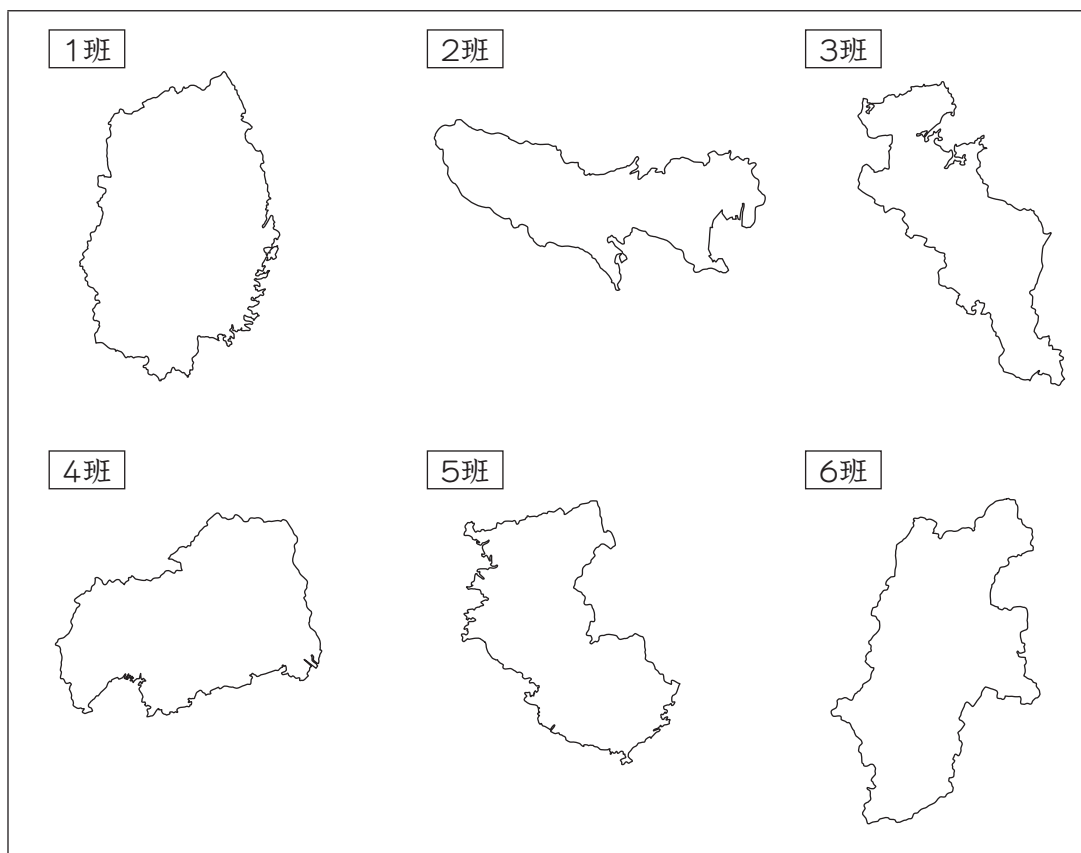
札幌日本大学中学校
入学選抜試験
【B日程(1月9日)】

社 会

試験時間 40分

1. 指示があるまで、問題冊子さっしを開いてはいけません。
2. 答えは、解答用紙に記入してください。問題は、**1**～**4**まであります。
3. 試験監督かんとくの先生の指示に従って、試験を開始してください。
4. 試験の途中で、トイレに行きたくなったり、気分が悪くなったりした場合は、手をあげて試験監督の先生の指示を受けてください。
5. 試験開始の指示があつてから、解答用紙に「受験番号」「氏名」を記入してください。
6. 解答用紙には、解答以外を記入しないでください。
7. 試験が早く終わっても、周囲を見回したり、横を向いたりしてはいけません。試験監督の先生から注意を受けることがあります。
8. 机の上には、筆記用具以外は置いてはいけません。風邪かぜなどにより、ティッシュペーパーを使用したい場合は、予め試験監督の先生に申し出てください。

- 1 ミナミさんのクラスでは、6つの班に分かれてそれぞれ【都府県】を一つ選び、調べることにしました。次の図1は、1班～6班が調べた【都府県】のイラスト（島や飛地はえがいていません）です。図1を見て、あとの問いに答えなさい。



問1 次の6つの文章は、ミナミさんのクラスで調べた【都府県】の紹介文の一部です。図1の1班～6班が調べた【都府県】にあてはまるものを、下の(ア)～(カ)のうちからそれぞれ一つずつ選び、記号で答えなさい。

(ア) 1年を通して雨が少なく、夏と冬の気温の差が大きいです。農業では高原のすずしさを利用したレタスの栽培が行われています。

(イ) 2011年の東日本大震災で、大きな被害を受けました。復興が進み、震災前の姿を取りもどしつつありますが、いまだに悲しみが消えることはありません。

(ウ) ミカンやウメ、柿の栽培が盛んです。南部にあるテーマパークでは、たくさんのパンダが飼育されています。

(エ) かつて日本の都であったため、歴史的な建物があります。そのため日本人だけではなく、多くの外国人も観光に訪れています。

(オ) 1945年の8月6日に原子爆弾ばくだんが投下されました。戦争の悲惨ひさんさを今に伝える建物が、世界遺産として県庁所在地の中心部に残されています。

(カ) 日本の首都で、日本の人口の1割近くがここに集中しています。その中心部では過密化が問題になっています。

問2 1班は、調べた【都府県】に、大きな山脈があることに注目し、この山脈のことを調べました。次の文章中の (A) ・ (B) にあてはまる適切な語句を、それぞれ漢字で答えなさい。

この山脈は、昔陸奥むつの国と出羽でわの国の境にあったことから、(A) 山脈と名付けられたといわれています。冬は (B) によって運ばれてきたしめった空気が (A) 山脈にぶつかることにより、日本海側は大雪になります。

問3 2班は、調べた【都府県】に多くの島があることを知り、日本のいろいろな島のことを調べました。この【都府県】にある島について述べているものを、次の(ア)～(エ)のうちから一つ選び、記号で答えなさい。

(ア) この島は、樹齡じゅれい1000年をこえる杉すぎの木が多くみられ、世界遺産にも選ばれています。そのため、観光客が多く訪れています。


(イ) この島に、16世紀ていぼうに鉄砲が伝えられたとされています。今では宇宙に関連する施設しせつが多く建てられ、ロケットの打ち上げも行われています。

(ウ) この島は、日本の最南端さいなんたんに位置しています。波により島がけずられたため、工事をして人工的に島の保護をしています。

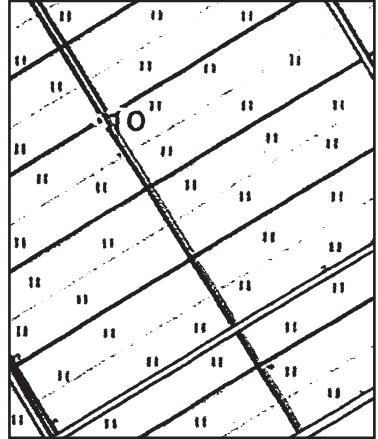
(エ) この島は、日本の領土ではありますが、現在はロシアによって支配されています。日本政府は返還へんかんを求めています。ロシアは応じていません。

問4 3班は、調べた【都府県】で茶の生産が盛んに行われていることを知り、この【都府県】の地域について、地図で調べました。茶の栽培が盛んに行われている地域を、次の(ア)~(エ)のうちから一つ選び、記号で答えなさい。

(ア)



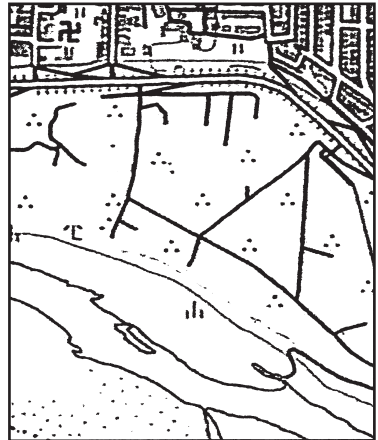
(イ)



(ウ)



(エ)



『国土地理院発行 2万5千分の1地形図』より作成
 ※問題の都合上、地形図は拡大しています。

問5 4班は、調べた【都府県】を中心とした地域でレモンの栽培が盛んに行われていることを知り、この地域の地形・気候の特色、レモン栽培の特徴^{とくちょう}について、調べたことを次の資料A～Cにまとめました。資料A～Cを見て、この【都府県】を中心にレモンの栽培が盛んである理由を、レモンの病気との関係^{ぶく}も含めて答えなさい。

資料A この【都府県】を中心とする地域に関する地形・気候的特色

この地域は南北にある山地の影響により、雨が少ないことで知られています。また、冬の気温が温暖で氷点下になることが少ないです。島が多い地域ですが、特に風の強い地域ではありません。大きな台風の被害を受けることも少なく、比較^{ひかくてき}的過ぎしやすい気候です。

資料B レモン栽培の特徴

- ・レモンは、寒さに弱く、気温が低すぎると枯^かれてしまうことが多いです。
- ・レモンは、風に弱いため防風林や防風ネットで守る必要があります。
- ・レモンは、「かいよう病」に弱く、この病気にかかると出荷できなくなります。

資料C レモンの病気「かいよう病」

「かいよう病」とは、強い風雨によって傷ついた葉や実から細菌^{さいきん}が入り込み^こ一部^{かた}を硬く変色させる病気で、「かいよう病」の被害を見つけた場合は、その葉や実を確実に取り除かなければなりません。レモンは、ミカンなどに比べて、「かいよう病」にかかる可能性が高く、この病気にかからないような場所での栽培が好ましいとされています。

問6 5班は、調べた【都府県】の人口に関する資料をもとに、図2のグラフと発表文をつくりました。文章中の下線部(ア)～(エ)のうちから、誤っているものを一つ選び、記号で答えなさい。

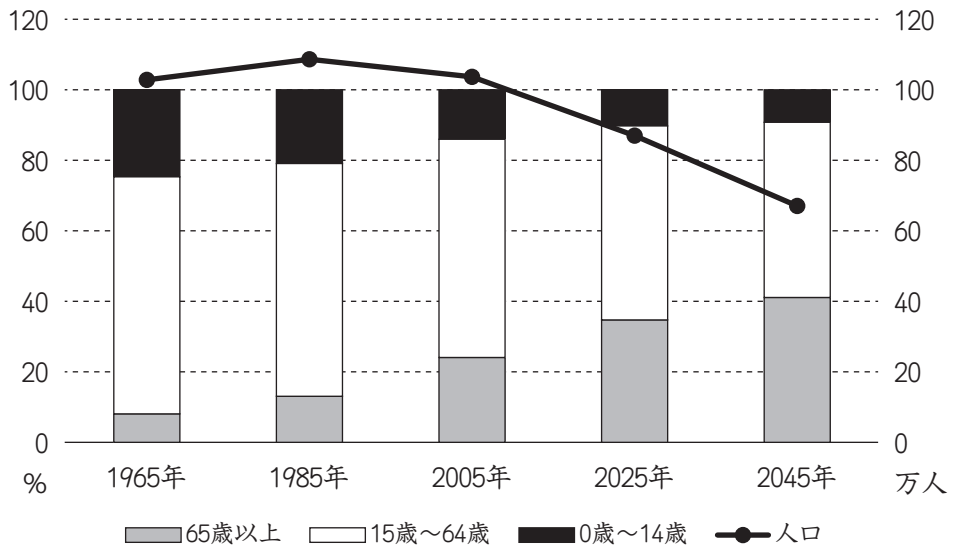


図2

※棒グラフは左側の数値、折れ線グラフは右側の数値を示しています。
 「5班が調べた【都府県】のHP」より作成

発表文

まず、棒グラフを見てください。棒グラフは年齢別人口の割合を示しています。1965年と2005年とを比べると、1965年には全体の20%以上をしめていた0歳から14歳の人口が、(ア)2005年には20%を下回るまで減少し、65歳以上の人口が20%をこえています。さらに、1985年と将来の予測である2045年とを比べると、(イ)2045年は65歳以上の人口が全体の40%以上をしめ、1985年の65歳以上の人口の2倍に増えると予想されています。

次に折れ線グラフを見てください。この【都府県】の人口は(ウ)1985年を境に減少が続くと考えられており、2045年には(エ)65歳以上の人口は40万人以上になると予測されています。

これらのことから、この【都府県】では、少子・高齢化が進むと考えられます。そのために、さまざまな対策を考える必要があります。

問7 6班は、調べた【都府県】が海に面していないことに注目し、周りの県との位置関係を調べました。次の図3はこの【都府県】にとなり合っている県名を示しています。図中の①～④の方向に位置する県名をそれぞれ漢字で答えなさい。

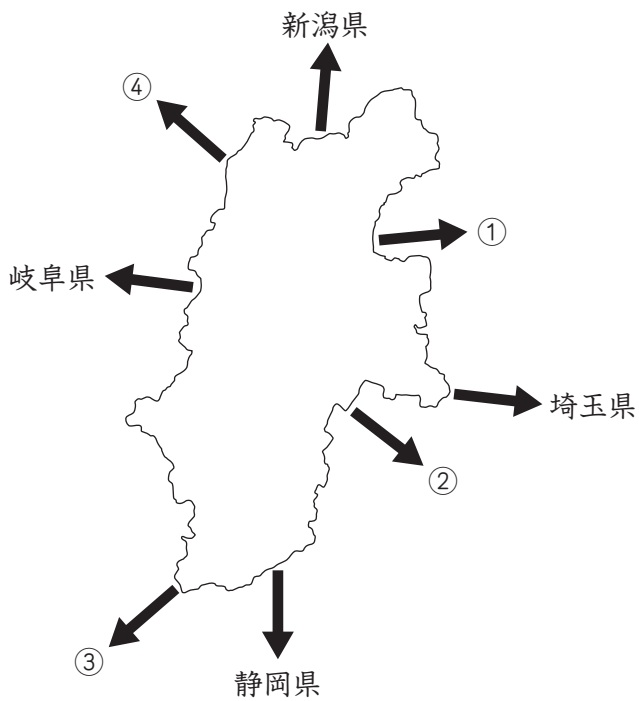


図3

2 次の文章を読み、問いに答えなさい。

私たちの住む街には、様々な歴史があります。

例えば、愛知県の清須市から名古屋市西区にまたがる朝日遺跡は、佐賀県の吉野ヶ里遺跡と同じくらいの巨大な①弥生時代の集落であったことが分かっています。

また、古墳時代の尾張地域は大和朝廷と強いつながりがありました。名古屋市熱田区の断夫山古墳や守山区の白鳥塚古墳などは、その関係性を考える上で重要な②前方後円墳です。

愛知県は日本の歴史を代表する有名な人物の出身地でもあります。現在の春日井市で生まれたとされる小野道風は③平安時代の著名な書道家であり、日本風の書道を築きました。源頼朝も熱田区で生まれたとされ、源平合戦を経て、④鎌倉幕府を築きました。

そして、何より有名なのは⑤織田信長・豊臣秀吉・徳川家康の3人でしょう。その中でも平和で安定した⑥江戸時代の基礎を築いた徳川家康の功績は日本の歴史上、とても大きなものです。


⑦明治時代以降にも、愛知県からは、⑧1925年に普通選挙法を制定した内閣総理大臣の加藤高明や、⑨日本の女性活躍の道をひらいた市川房枝らが出ました。彼らの功績は今の日本の社会を作るために欠かせないものでした。

これらの歴史を築いてきた愛知県を含む東海地方は日本の中央部分に位置しています。その地理的特徴を背景に古くから⑩交通の要所であったこの地域は、今後もますます発展していくと考えられています。古いものだけでなく、⑪これから先に生まれてくる新たな歴史にも、私たちはしっかりと目を向けていくことが大切です。


問1 下線部①に関連して、以下の問いに答えなさい。

- (1) 以下の2つの想像図は弥生時代のムラの様子を描いたものです。この図から読み取れる内容を参考にしながら、日本の弥生時代について述べた文として、誤っているものを、(ア)～(エ)から1つ選び、記号で答えなさい。

〈図A〉



〈図B〉



- (ア) 図Aのような稲作の跡は北海道や沖縄を除く日本各地で発見されており、西日本から東日本に向かって広がっていったと考えられている。
- (イ) 図Aのように、田んぼでは木製の道具が使用され、収穫された米は高床倉庫で保管された。
- (ウ) 図Bの集落は物見やぐらや集落の周囲を囲う木の柵の存在などから、外的からの防衛を意識した作りになっている。
- (エ) この時期の日本では鉄製の武器や弓矢は使用されておらず、木製の剣と盾のみが使用されていたことが図Bからわかる。

(2) 日本国内から見つかったりる弥生時代を象徴する遺物として正しいものを、(ア)～(エ)から一つ選び、記号で答えなさい。


(ア)



(イ)



(ウ)



(エ)



出典：宮内庁ホームページより

問2 下線部②について述べた文として正しいものを、(ア)～(エ)から1つ選び、記号で答えなさい。


- (ア) 日本最大の前方後円墳である大仙（仁徳陵）古墳は現在の京都府にある。
- (イ) 5世紀には全国ほとんどの地域で前方後円墳は造られなくなった。
- (ウ) 棺ひつぎは一般に前方部におさめられ、後円部では儀式ぎしきが行われた。
- (エ) 前方後円墳の多くは建造当初、墓の表面に石が敷きつめられていた。

問3 下線部③の平安時代の様子を描いた絵画として正しいものを、(ア)～(エ)から1つ選び、記号で答えなさい。

(ア)



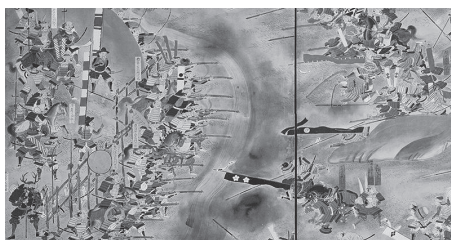
(イ)



(ウ)



(エ)



問4 下線部④に関連して、次の文章は鎌倉時代に行われた演説を現代語訳したものです。文章を読んで以下の問いに答えなさい。

〈演説〉

みな心を一つにして聞きなさい。これが最後の言葉です。今はなき頼朝様は幕府を開いてから、あなたたちに官位や土地を与えた。そのご恩は山よりも高く、海よりも深い。ところが今朝廷は幕府を倒そうとしている。名誉を大切にする武士ならば、朝廷方と戦って、将軍のご恩におくいなさい。もし、朝廷方につきたい者がいるなら、今すぐ申し出なさい。

- (1) この演説を行った人物を漢字で書きなさい。
- (2) この時代に起こった出来事(A)~(C)を古いものから順に並べた時の正しいものを、(ア)~(カ)から1つ選び、記号で答えなさい。
- (A) 竹崎季長が元との戦いで活躍した。
(B) 守護・地頭が設置された。
(C) 徳政令で生活に苦しむ御家人を救おうとした。
- (ア) A→B→C (イ) A→C→B (ウ) B→A→C
(エ) B→C→A (オ) C→A→B (カ) C→B→A

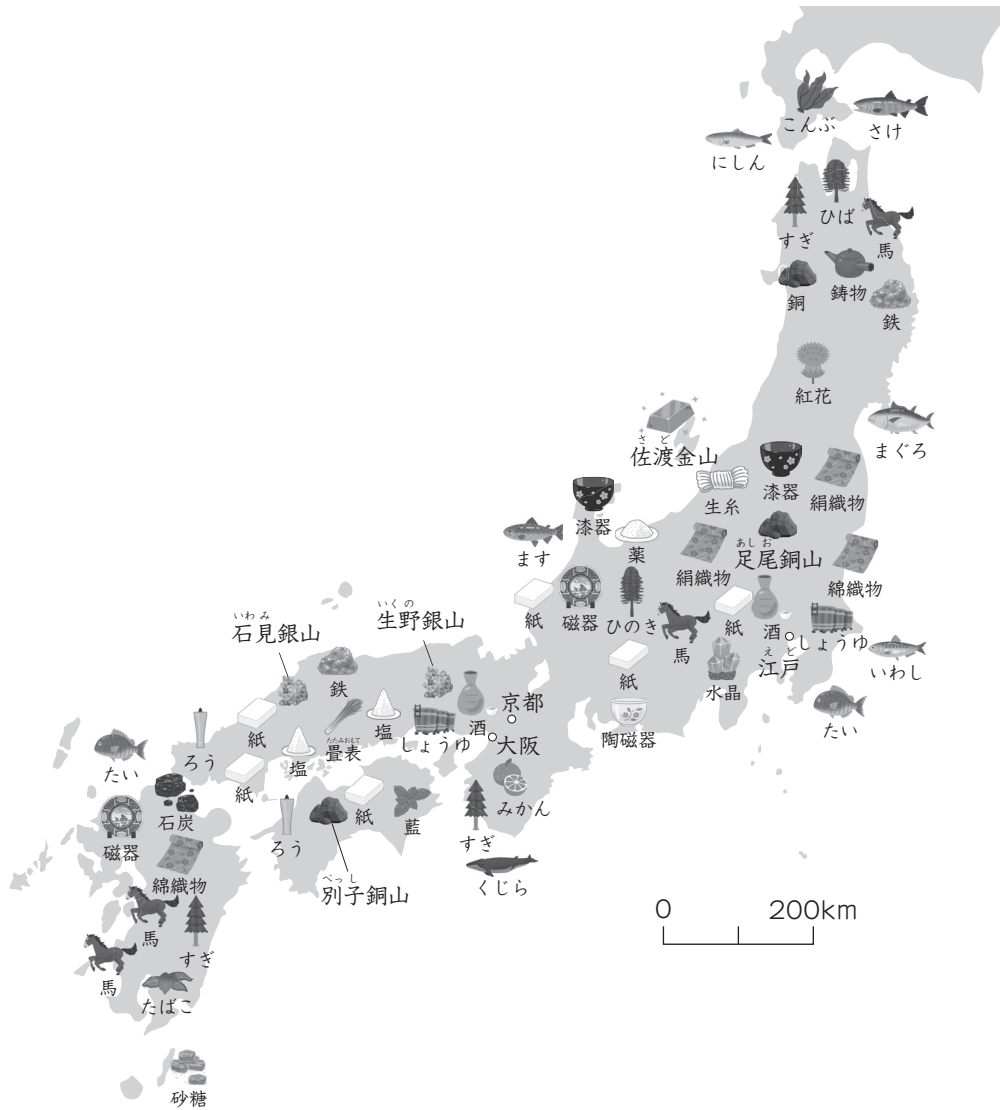
問5 下線部⑤に関連して、次の文章の空欄に適する語句の組み合わせとして正しいものを、(ア)~(カ)から1つ選び、記号で答えなさい。

織田信長は【 A 】教に関しては受け入れる姿勢を示したが、古くからの仏教勢力とは対立し、【 B 】宗の信者が起こした一向一揆と各地で戦ったり、天台宗の中心である【 C 】の焼き討ちを行った。

- (ア) A：イスラム B：曹洞 C：東大寺
(イ) A：キリスト B：曹洞 C：金閣寺
(ウ) A：イスラム B：臨濟 C：銀閣寺
(エ) A：キリスト B：臨濟 C：金剛峯寺
(オ) A：イスラム B：浄土真 C：清水寺
(カ) A：キリスト B：浄土真 C：延暦寺

問6 下線部⑥に関連して、以下の問に答えなさい。

- (1) 江戸時代の各地の特産物を示した下の地図について述べた文として誤っているものを(ア)~(エ)から1つ選び、記号で答えなさい。



- (ア) 現在の千葉県や兵庫県はしょうゆの産地であった。
(イ) 紙の生産地は東日本に集中していた。
(ウ) 九州や東北では特産品として馬が生産された。
(エ) 木曾のひのきや紀伊のすぎなど、木材も特産品として価値があった。

- (2) 18世紀に松阪（三重県）の商家に生まれた本居宣長について述べた文として正しいものを、(ア)～(エ)から1つ選び、記号で答えなさい。
- (ア) 江戸から京都までの風景を描いた『東海道五十三次』を完成させた。
- (イ) 町人の苦しみや悲しみをしばいの台本に書き、歌舞伎^{かぶき}を発展させた。
- (ウ) 日本の古典を研究し、『古事記伝』を書いて国学を発展させた。
- (エ) 50才を過ぎてから天文学や測量術を学び、日本地図を作った。

問7 下線部⑦に関連して、政府は全国に多くの官営工場を建設し、日本の殖産興業をめざした。その中で、群馬県に設立された(1)工場の名称と、(2)生産された製品を漢字で答えなさい。

問8 下線部⑧に関連して、以下の問に答えなさい。

- (1) この法律の前提となっている大日本帝国憲法に書かれている内容として正しいものを、(ア)～(エ)から1つ選び、記号で答えなさい。(文章は原文そのままではなく、一部変えています。)
- (ア) けんかに及ぶ^{ともがら}輩は理非を論ぜず両方とも死罪に行うべきなり
- (イ) 文武弓馬の道、専^{もっぱ}ら相たしなむべき事^{あい}
- (ウ) 天皇は陸海軍を統帥^{とうすい}す
- (エ) 政府の行為によって再び戦争の惨禍^{さんか}が起こることのないようにする
- (2) 下線部⑧と同時に制定された、政治や社会のしくみを根本から変えようとする運動を厳しく取り締まるための法律の名称を漢字で答えなさい。

問9 下線部⑨に関連して、明治時代以降の日本の女性について述べた文として誤っているものを、(ア)～(エ)から選び、記号で答えなさい。

- (ア) 最初の女子留学生の一人として海を渡った津田梅子は、帰国後は日本の女子教育の発展に力を入れ、後の津田塾大学を作った。
- (イ) 女性の政治参加を求めた与謝野晶子は第一次世界大戦に参戦した弟にむけて「君死にたまふことなかれ」の歌をよんだ。
- (ウ) 日本のシベリア出兵に伴う米の値段の上昇に対して、富山県の漁村の主婦たちが米屋を襲^{おそ}い、全国に広がる米騒動が始まった。
- (エ) 太平洋戦争中、国内で唯一地上戦が行われた沖縄では、ひめゆり部隊などに所属した女子学生も多く亡くなった。

問10 下線部⑩に関連して、愛知県には現在でも、i) 国際線を含む空港、ii) 新幹線の駅、iii) 地下鉄、iv) 高速道路が存在し、交通の要所となっています。愛知県と同じく、このi) からiv) を全て備えている県として正しいものを、(ア)～(エ)から1つ選び、記号で答えなさい。

- (ア) 福岡県 (イ) 奈良県 (ウ) 神奈川県 (エ) 千葉県

3 次の資料は、まさお君とただし君が冬休みの自由研究のため、2020年からの各年代の日本と世界で起こったことを書き出したカードと、それについての会話文である。資料を見ながら、問いに答えなさい。

A
コロナ感染拡大WHOによる「パンデミック」
イギリスがEUを離脱
核禁止条約の発効

D
ロシアがウクライナへ侵攻を始める
燃料価格の高騰や食料不足が不安視される
エリザベス女王の死去
世界の人口が80億人を突破

B
東日本大震災から10年
オリンピック・パラリンピックの無観客開催
岸田政権発足
参議院選挙の実施

E
コロナウイルスで緊急事態宣言
全国の学校で一斉休校
オリンピック・パラリンピックの延期
日本から新たに2つの世界遺産が誕生

C
まん延防止等重点措置がとられる
安倍前首相の襲撃事件が起こる
歴史的な為替相場と物価高
知床で観光船の沈没事故が発生
18歳から成人へ
沖縄が返還されて50年

F
ミャンマーでクーデター
バイデン政権発足
G7サミット開催
コロナ死者世界で500万を超える

まさお：やっぱりここ何年かは、日本も世界もコロナウイルスに振り回されましたね。

ただし：いろいろと、制限される生活のなかで経済も停滞してしまったね。

まさお：①ロシアがウクライナに侵攻をはじめたことによって、さらに日本の物流や経済に影響を与えたと思うよ。

ただし：日本の為替相場と物価高もその影響なのかな。

まさお：そうかもしれないね。調べてみるのも面白いかもしれないね。

ただし：そういえば、②18歳からもう成人になったのか。

まさお：そうだよ。③選挙権も18歳からになったし、刑法も改正されて18歳から実名報道がなされるようになった。僕たちも、いち早く大人の自覚をもって行動できるようにならないといけない。

ただし：最新の④世界遺産には、北海道もふくまれていたはずだけど。

まさお：うん、そうだよ。これで日本は25件目の世界遺産登録となったんだ。

ただし：知床も世界遺産に登録されているけど、その観光ツアーで悲しい事件もあったね。

まさお：この観光船の事故では、運航会社の管理体制だけではなく、⑤国土交通省の企業への管理が甘かったと批判もあった。

ただし：この3年間だけをみても色んなことがあったんだね。

まさお：こうやってまとめていくと、日本や世界の動きと関係性が見えてくと思うよ。

ただし：よし、休憩はこれくらいにして、残りの2023年のカードを作ろう。

まさお：そうしよう。

問1 下線部①に関連して、下線のような状況が日本や世界の経済に与える影響について述べた文として誤っているものを、(ア)～(エ)から1つ選び、記号で答えなさい。

- (ア) まん延防止等重点措置が出た地域の飲食業界の多くは売り上げが減った。
- (イ) ロシアからの天然ガスの輸入を控えた国で家庭の光熱費ひかが上がった。
- (ウ) 日本では、運送費が値上がりし、一部の企業が商品の価格を値上げした。
- (エ) 原油の価格が上がり、世界中で火力発電より原子力発電の占める割合が大きくなった。

問2 下線部②に関連して、この改正によって新たに18歳から可能になったことについて述べた文として正しいものを、(ア)～(エ)から1つ選び、記号で答えなさい。

- (ア) 飲酒や喫煙きつえんが自由に行えるようになる。
- (イ) クレジットカードが作れるようになる。
- (ウ) 競馬などでお金をかけることができるようになる。
- (エ) 普通自動車の運転免許を取得できるようになる。

問3 下線部③に関連して、参議院議員選挙について述べた文として正しいものを、(ア)～(エ)から1つ選び、記号で答えなさい。

- (ア) この選挙の選挙区の選挙では、北海道が12に区分される。
- (イ) この選挙の比例代表選挙では、候補者の氏名、政党名どちらでも投票が行える。
- (ウ) この選挙に立候補できるのも、18歳から可能となるような法律に改正された。
- (エ) この選挙で当選した人の任期は、最短で3年、最長で6年である。

問4 下線部④に関連して、知床半島は世界遺産に登録されています。日本の世界遺産について述べた文として正しいものを、(ア)～(エ)から1つ選び、記号で答えなさい。

- (ア) 知床半島と同じ世界自然遺産には富士山がある。
- (イ) 愛知県には世界文化遺産に登録された史跡がある。
- (ウ) 佐渡島の金山が世界文化遺産に登録された。
- (エ) 長崎県にはキリシタンに関する世界文化遺産がある。

問5 下線部⑤に関連して、国土交通省について述べた文として正しいものを、(ア)～(エ)から1つ選び、記号で答えなさい。

- (ア) 国土交通省は空港と日本航空（JAL）などの航空会社を経営している。
- (イ) 国土交通省の下には気象庁が設置されている。
- (ウ) 国土交通省は国土の環境を守り水産資源の保護が主な仕事である。
- (エ) 国土交通省は法務局を置き、外国人の入国を管理している。

問6 この6つのカードを、日本と世界のカードに分類し、それぞれを年代順に並べかえると、カードはどの順番になりますか、古い順に並び替えなさい。

4 2023年に起こった出来事について述べた問1～問3の空欄に当てはまる適切な語句や人名、名称等を、それぞれ答えなさい。

問1 5月8日 新型コロナウイルス感染症が感染症法上の「2類」から、季節性インフルエンザなどと同類の「()」に引き下げられた。感染対策の基本的対処方針も廃止された。

問2 9月8日 アフリカの()で、マグニチュード6.8の地震が発生した。世界保健機構(WHO)はこの地震の被災者を30万人以上と推定した。

問3 10月7日 パレスチナ自治区の()地区を実効支配するイスラム組織ハマスがイスラエルへの一斉攻撃を始めた。

