

2024年度

# 札幌日本大学中学校

## 入学選抜試験

【A日程(1月7日)】

社 会

試験時間 40分

- 指示があるまで、問題冊子さっしを開いてはいけません。
- 答えは、解答用紙に記入してください。問題は、**1**～**4**まであります。
- 試験監督かんとくの先生の指示に従って、試験を開始してください。
- 試験の途中で、トイレに行きたくなったり、気分が悪くなったりした場合は、手をあげて試験監督の先生の指示を受けてください。
- 試験開始の指示があってから、解答用紙に「受験番号」「氏名」を記入してください。
- 解答用紙には、解答以外を記入しないでください。
- 試験が早く終わっても、周囲を見回したり、横を向いたりしてはいけません。試験監督の先生から注意を受けることがあります。
- 机の上には、筆記用具以外は置いてはいけません。風邪かぜなどにより、ティッシュペーパーを使用したい場合は、予め試験監督の先生に申し出てください。



1 次の文章を読み、問いに答えなさい。

現在では、旅行は一般的な趣味の一つとなっていますが、日本において、女性が自由に旅行できるようになったのは近年のことです。経済的な余裕ができて、交通手段が発達し、①女性の地位が向上して可能になりました。こうした時代が来る前に、旅をした3人の女性を紹介しましょう。

一人目は坂本龍馬の妻の「おりょう」(1841～1906)です。幕末の動乱のなか、日本初の新婚旅行といわれる旅をしました。1866年、②京都で負傷した龍馬とともに、蒸気船で大阪を発ちました。鹿児島到着後、霧島方面に出かけました。およそ1ヶ月間、登山を楽しんだり、神社を参拝したりした二人の旅がのちに新婚旅行と呼ばれるようになりました。その後は龍馬と過ごした日々は少なく、各地を転々とするようになりました。③長崎でしばらく暮らし、1867年になると、④下関に転居しました。龍馬が京都で殺害された後は⑤高知に身を寄せました。

二人目は明治初期の日本を旅したイギリス人女性「イザベラ・バード」(1831～1904)です。彼女は1878年、⑥( )を經由して横浜の港に降り立ちました。彼女は一人の日本人通訳を雇い入れ、6月に日光へ向けて出発しました。日光では10日余り滞在し、休養をとったあと、会津を経て新潟へ抜ける山道を選びました。点在する寒村はどれも生活が厳しく、旅路も困難でした。しかし、⑦( )中流の津川から新潟へ下る船旅は爽快であったようです。新潟で10日ほど滞在し、再び内陸に向かいました。米沢盆地では、みごとに耕された田畑に感服し、山形から北上し、横手盆地を過ぎて、⑧久保田に着きました。久保田から⑨青森に行き、汽船に乗って、函館に渡りました。長らく悪天候に悩まされていましたが、⑩北海道では本州とは違ったカラリとした空気がイザベラの心を軽くしたようです。東北地方から北海道にかけて三ヶ月の旅をし、帰国後の1880年に『日本奥地紀行』を発表しました。

三人目は歌人の「与謝野晶子」(1878～1942)です。彼女は夫の与謝野鉄幹を追いかけてパリに一人で行きました。1912年5月5日、東京発神戸行きの東海道本線の汽車に乗り、米原で⑪( )に乗り換え、敦賀に着きました。そして、ロシア船アリヨル号に乗り込みました。ウラジオストクに上陸し、シベリア鉄道に乗りました。「4日目には⑫バイカル湖が見えるはずであるとあって、誰も外の

景色の変わるのを楽しみにしているやうであったが、やっと二時頃に白い湖の半面が見え出した。「ウラルを越えていよいよ欧羅巴<sup>よーろっぱ</sup>に入った。山の色も草木の色も目に見えて濃い色彩を帯びてきた。」「ボオル大河の上で初めて飛んでいる燕<sup>つばめ</sup>を見た。⑬露西亜<sup>ろしあ</sup>で書いた駅の名はもとより私に読まれない。」などと記録を残し、5月17日モスクワに着きました。モスクワからワルシャワ、ベルリンを経て5月19日にパリに着きました。

問1 下線部①に関連して、日本で女性が選挙権<sup>かくとく</sup>を獲得した年として正しいものを、(ア)～(エ)から一つ選びなさい。

- (ア) 1925年      (イ) 1935年      (ウ) 1945年      (エ) 1955年

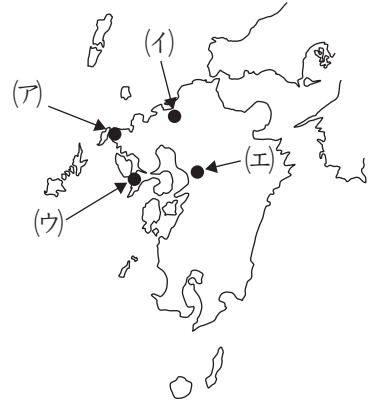
問2 下線部②に関連して、次の表は現在の京都府、大阪府、鹿児島県の人口(2022年)、農業産出額(2020年)、製造品出荷額(2019年)を示しています。①～③は京都府、大阪府、鹿児島県のいずれかです。①～③と都道府県名の正しい組み合わせを、(ア)～(カ)から一つ選びなさい。

	人口(万人)	農業産出額(億円)	製造品出荷額(十億円)
①	159	4772	1994
②	245	642	5659
③	856	311	16938

二宮書店『2023データブック オブ・ザ・ワールド』より作成

- (ア) ①：京都府      ②：大阪府      ③：鹿児島県  
 (イ) ①：京都府      ②：鹿児島県      ③：大阪府  
 (ウ) ①：大阪府      ②：京都府      ③：鹿児島県  
 (エ) ①：大阪府      ②：鹿児島県      ③：京都府  
 (オ) ①：鹿児島県      ②：大阪府      ③：京都府  
 (カ) ①：鹿児島県      ②：京都府      ③：大阪府

問3 下線部③に関連して、長崎市の位置として正しいものを、  
図の(ア)～(エ)から一つ選びなさい。



問4 下線部④についての説明として誤っているものを、(ア)～(エ)から一つ選びなさい。

- (ア) 付近の海上で、壇ノ浦の合戦が行われた。
- (イ) 日清戦争の講和条約が結ばれた。
- (ウ) まぐろの水揚げ量が多いことで知られる。
- (エ) 関門トンネルで北九州市と結ばれている。

問5 下線部⑤の高知県で、現在生産がさかんな農作物として正しいものを、(ア)～(エ)から一つ選びなさい。

- (ア) りんご
- (イ) キャベツ
- (ウ) ぶどう
- (エ) ピーマン

問6 下線部⑥の( )には日本とつながりの強い港湾都市で、中国最大の経済都市が入ります。その都市名を答えなさい。

問7 下線部⑦の( )に入る河川として正しいものを、(ア)～(エ)から一つ選びなさい。

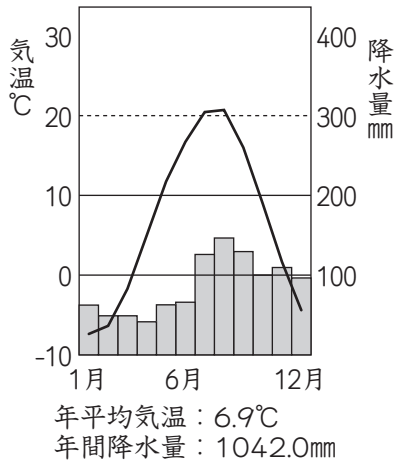
- (ア) 阿賀野川
- (イ) 利根川
- (ウ) 最上川
- (エ) 北上川

問8 下線部⑧は、現在、ある県庁所在地の都市となっています。その市名を漢字で答えなさい。

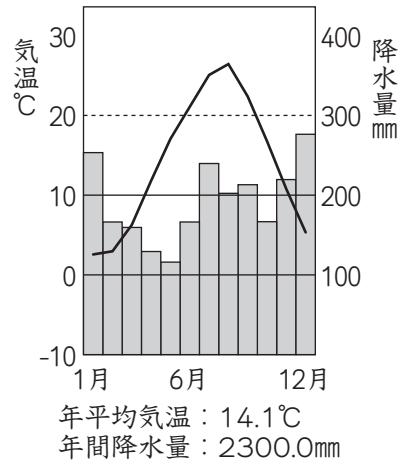
問9 下線部⑨に関連して、イザベラ・バードが渡った海峡かいきょうの名称を漢字で答えなさい。

問10 下線部⑩に関連して、次の(ア)~(エ)は函館、旭川、富山、長野の雨温図です。  
 函館の雨温図を、(ア)~(エ)から一つ選びなさい。

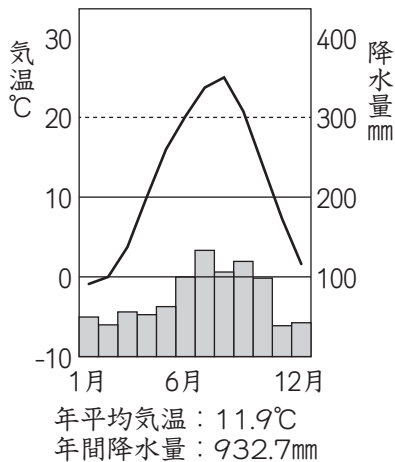
(ア)



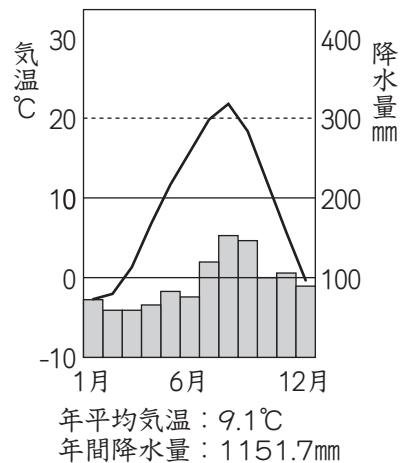
(イ)



(ウ)



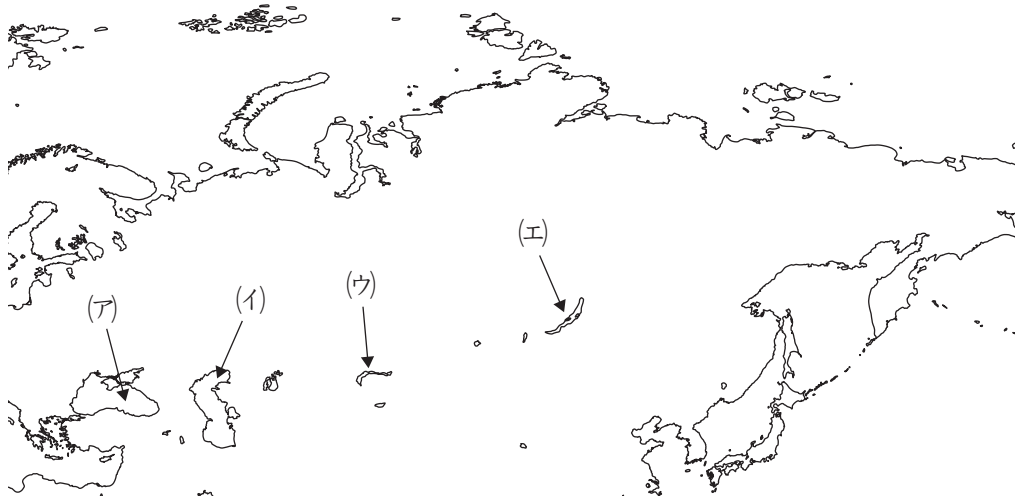
(エ)



問11 下線部⑪の ( ) に入る鉄道路線名として正しいものを、(ア)~(エ)から一つ選びなさい。

- (ア) 山陰本線      (イ) 高山本線      (ウ) 奥羽本線      (エ) 北陸本線

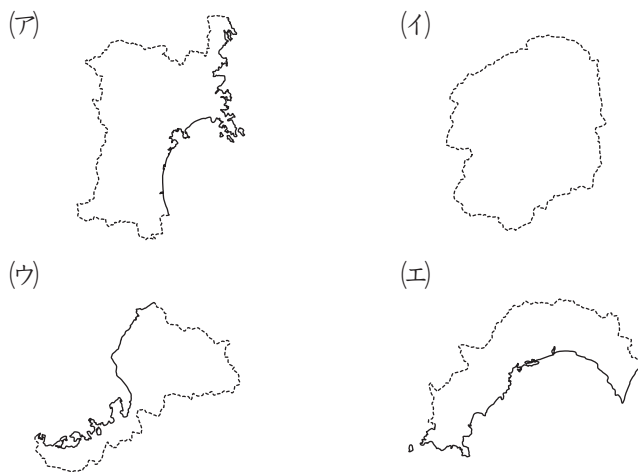
問12 下線部⑫の位置として適当なものを、地図中の(ア)~(エ)から一つ選びなさい。



問13 下線部⑬はロシア字と読みます。ロシアの文字として適当なものを、(ア)~(エ)から一つ選びなさい。

- (ア) สวัสดี ขอขอบคุณ      (イ) привет там Благодарю вас  
 (ウ) 안녕하세요 · 감사      (エ) ببتکت فببک کل ارشکش

問14 3人が文章の中で訪れた都道府県の地図として適当でないものを、(ア)~(エ)から一つ選びなさい。



※実線は海岸線、点線は都道府県境を示している。

問15 与謝野晶子はシベリア鉄道でパリに行きましたが、シベリア鉄道が開通する前、日本からヨーロッパへは船で行きました。ホンコン（香港）から、マラッカ海峡、スエズ運河を経由して、フランスのマルセイユに入港する航路が一般的でした。ホンコンから先の航路をマルセイユまで、解答用紙の地図に線で書きこみなさい。





2 次の文章を読み、問いに答えなさい。

歴史を学ぶには、時代ごとに政治のしくみや人々の暮らしなどの特色を大きくつかむと理解しやすくなります。日本の時代区分の方法はさまざまです。例えば、奈良に都が置かれていた「①奈良時代」、②鎌倉に幕府が開かれていた「鎌倉時代」など、政府の置かれていた場所を時代の名称とする場合があります。また、③古い時代の名称は、その時期に使われていた道具や墓などからつけられています。④明治以降は元号（年号）が時代の名称となっています。

時代区分の方法はさまざまあるため、時代が重複することもあります。戦国大名が争った「戦国時代」の多くの期間は、実際には幕府が存続していたため「( A ) 時代」と重なっています。

昔の人も歴史を研究する上で、時代区分をしていました。江戸時代中期の儒学者・政治家であった新井白石（1657～1725年）は『読史余論』という歴史書で、独自の時代区分をしています。新井白石は日本の歴史を「公家（貴族）の時代」と「武家（武士）の時代」に分け、公家の時代を9つ、武家の時代を5つに分けています。しかも、公家の時代と武家の時代に重複した期間を設定しているのがユニークな視点です。下はその「読史余論」の記述をもとに時代区分したものです。

『読史余論』の時代区分

《公家の時代 一》

清和天皇は天皇になった時、幼かったので、母方の祖父である藤原良房が（ B ）となって政務をとった。これが母方の親戚が権力を握るという例の始まりである。

《公家の時代 二》

藤原基経は天皇の妻の父という関係から、陽成天皇を廃して、光孝天皇を立て、天下は藤原氏のものになった。その後関白を置いたり置かなかったりした時代もあったが、藤原氏の権力はますます盛んになっていった。

《公家の時代 三》

冷泉天皇から後冷泉天皇までの8代103年間は、藤原氏が天皇の母方の親戚として権力を握り続けた。

《公家の時代 四》

後三条天皇と白河天皇の時代は天皇が政治を行った。

《公家の時代 五》

堀河天皇から安徳天皇までの9代97年間は、天皇を退位した( C )が政治を行った。

《公家の時代 六》

後鳥羽天皇から順徳天皇までの3代38年間は、鎌倉の将軍が天下の軍事権をつかさどることになった。

《公家の時代 七》

後堀河天皇から光厳天皇こうごんまでの12代112年間は、家臣のそのまた家臣でありながら、( D )氏が国家の政務をとった。

《公家の時代 八》

後醍醐天皇が再び天皇の位に就き、政権が朝廷に返ったが、わずか3年の期間だった。

《公家の時代 九》

その後天皇は戦乱さを避けてさまよい、足利尊氏が後醍醐天皇とは別の系統こうみょうの光明天皇を立てて以来、天下は長く武家のものとなった。

《武家の時代 一》

武家は源頼朝が幕府を開いて、父子3代にわたって天下をとった。33年間であった。

《武家の時代 二》

( D )義時よしときは承久の乱の後天下をとり、その後( D )氏の時代が7代112年続いたが、( D )高時たかときの代になって滅亡めつぼうした。

《武家の時代 三》

後醍醐天皇が政治の実権を取り戻した後、足利尊氏が反旗をひるがえし、天皇は諸国をさまようことになった。尊氏は光明天皇を立てて北朝とし、自分は幕府を開いた。子孫は12代に及んだ。この間238年たった。

《武家の時代 四》

足利氏の時代の末になって⑤織田信長が出てきて、将軍を廃し、天皇をいただいて天下に号令しようとしていたところ、その途中で家臣の( E )によって殺された。

その後⑥豊臣秀吉が関白となり、天下をほしいままにして15年たった。

《武家の時代 五》

その後ついに現在の時代になった。

問1 ( A ) ~ ( E ) にあてはまる語句を漢字で答えなさい。


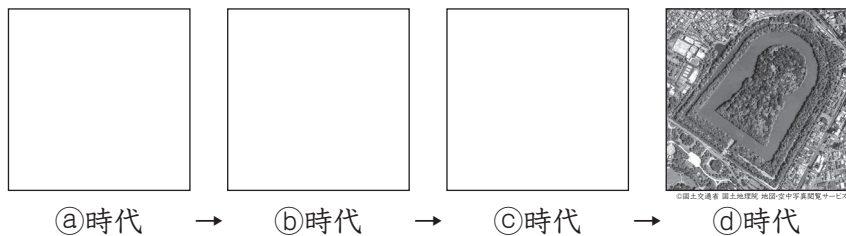
問2 下線部①についての説明として正しいものを、(ア)~(エ)から一つ選びなさい。

- (ア) 正倉院には西アジアでつくられた工芸品も保管されている。
- (イ) 大仏づくりに反対した行基は朝廷から弾<sup>だん</sup>圧<sup>あつ</sup>された。
- (ウ) 農民は租や調を納めるほか、防人として東北地方の警備につくこともあった。
- (エ) 唐<sup>とう</sup>の衰退により遣唐使が停止された。

問3 下線部②が位置している都道府県の説明として誤っているものを、(ア)~(エ)から一つ選びなさい。

- (ア) 江戸時代以前は大部分の地域が相模国と呼ばれていた。
- (イ) 江戸時代は東海道が通り、箱根に関所が置かれていた。
- (ウ) 日米和親条約によって横浜が開港した。
- (エ) 現在の人口は都道府県の中で2番目に多い。

問4 下線部③について、下の図のように古い順に①時代から古墳時代と呼ばれています。①~③時代の名称となっている道具の写真を(ア)~(カ)からそれぞれ選びなさい。



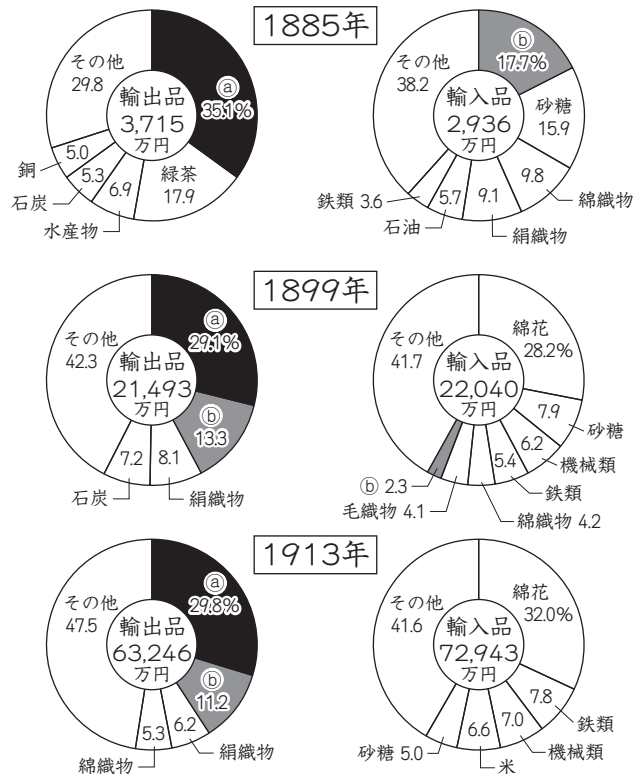
問5 下線部④に関連して、以下の問いに答えなさい。

(i) 大正時代のできごととして誤っているものを、(ア)～(エ)から一つ選びなさい。

- (ア) 米騒動が起きた。 (イ) 日本が国際連盟から脱退した。  
 (ウ) 関東大震災が発生した。 (エ) 日本が第一次世界大戦に参戦した。

(ii) 次の円グラフは明治・大正時代の輸出・輸入品目の割合を示しています。

グラフの①・②にあたるものを、(ア)～(カ)から選びなさい。



(『日本貿易精覧』による)

- (ア) 木材 (イ) 銀 (ウ) 綿糸 (エ) 自動車 (オ) 生糸 (カ) 紙類

問6 下線部⑤および⑥に関連するできごとを(ア)～(エ)を古いものから順に並び替えなさい。

- (ア) 安土城を築いた。 (イ) 刀狩令を出した。  
 (ウ) 2度の朝鮮出兵を行った。 (エ) 今川義元を討ち取った。

問7 下の写真の建物は、『読史余論』の時代区分のうち、どの時代に建てられたものですか。(ア)～(エ)から一つ選びなさい。



- (ア) 《公家の時代 三》      (イ) 《公家の時代 五》  
(ウ) 《武家の時代 二》      (エ) 《武家の時代 四》

問8 新井白石は「公家（貴族）の時代」と「武家（武士）の時代」に時代区分をしましたが、あなたが現在の時代を名付けるとしたらどうなるでしょう。

- (i) 現在の時代は、どのような人々の時代と言えるでしょうか。「○○の時代」という形式で答えなさい。
- (ii) (i)と答えた理由を、その時代が始まったと考えられるできごとを明確にした上で説明しなさい。

3 2000年代のおもなできごとを表した次の年表を見ながら、問いに答えなさい。

西暦	日本のできごと	世界のできごと
2001	①中央省庁が1府12省庁に再編される	アメリカで同時多発テロが発生する
2002	日本として初の②首脳会談が行われる	③EUでユーロの流通が始まる
2007	④憲法改正の国民投票法が成立する	サブプライムローン問題で世界経済が混乱
2009	⑤裁判員制度が始まる	
2010	⑥参院選で民主党が大敗し、ねじれ国会に	中国のGDPが日本を抜いて世界第2位に
2011	東日本大震災が発生する	
2013	⑥参院選で自公が過半数を占め、ねじれ国会の解消へ	
2014	⑦消費税の税率が改定される。	クリミアがロシアに編入される
2016	⑧大隅良典がノーベル賞を受賞する	アメリカの⑨大統領が被爆地広島を訪問
2018	北海道胆振東部地震が発生	アメリカとして初の②首脳会談が行われる
2019	⑦消費税の税率が改定される	
2020	新型ウイルス、コロナが蔓延	イギリスが③EUを離脱する
2021	東京オリンピックが1年遅れで開催	
2022	沖縄が日本に復帰して50年となる	ロシアがウクライナを侵攻する
2023	新型コロナが5類に引き下げられる	

問1 下線部①に関連して、現在ある省庁として誤っているものを、(ア)～(エ)から一つ選びなさい

(ア) 総務省      (イ) 国土交通省      (ウ) 大蔵省      (エ) 環境省

問2 下線部②に関連して、2002年の日本及び2018年のアメリカがともに初めて首脳会談を行った相手国として正しいものを、(ア)～(エ)から一つ選びなさい。

- (ア) インド      (イ) 中国      (ウ) 北朝鮮      (エ) ロシア

問3 下線部③についての説明として正しいものを、(ア)～(エ)から一つ選びなさい。

- (ア) EUは宗教や言語の統一を目指している。  
(イ) EUには東ヨーロッパの国も参加している。  
(ウ) イギリスのほかにもEUからの離脱をした国がある。  
(エ) EUに加盟すると共通通貨「ユーロ」を使用することになっている。

問4 下線部④についての説明として正しいものを、(ア)～(エ)から一つ選びなさい。

- (ア) 日本国憲法の改正は、これまでに一度しかおこなわれていない。  
(イ) 国民投票法は投票年齢を18歳以上と定めている。  
(ウ) 憲法改正の発議は国民がおこなうことになっている。  
(エ) 国民投票では有効票の3分の2以上の賛成によって憲法改正が承認される。

問5 下線部⑤についての説明として誤っているものを、(ア)～(エ)から一つ選びなさい。

- (ア) 裁判員は一般市民の中から選ばれる。  
(イ) 裁判員は裁判官と話し合っ<sup>て</sup>判決を下す。  
(ウ) 相続や離婚<sup>りこん</sup>など家庭内の問題は裁判員裁判の対象ではない。  
(エ) 裁判員裁判で死刑判決が下されることはない。

問6 下線部⑥についての説明として正しいものを、(ア)～(エ)から一つ選びなさい。

- (ア) 参議院は戦前の帝国議会にもあった。  
(イ) 選挙で立候補できるのは25歳以上の国民である。  
(ウ) 参議院議員選挙は3年ごとにおこなわれる。  
(エ) 参議院議員は内閣総理大臣になれない。

問7 下線部⑦についての説明として正しいものを、(ア)～(エ)から一つ選びなさい。

- (ア) 日本が世界にさきがけて導入した税金制度である。
- (イ) 導入された時の税率は5%である。
- (ウ) 2019年10月からは一部の食料品が非課税になった。
- (エ) 家や自動車を買う時にも課税される。

問8 下線部⑧について、2021年にノーベル物理学賞を受賞して、日本人として28人目のノーベル賞受賞者となった人物として、正しいものを(ア)～(エ)から一つ選びなさい。

- (ア) 吉野彰      (イ) 本庶佑      (ウ) 真鍋淑郎      (エ) 山中伸弥

問9 下線部⑨について、この時のアメリカの大統領を、(ア)～(エ)から一つ選びなさい。

- (ア) ジョー・バイデン      (イ) バラク・オバマ
- (ウ) ドナルド・トランプ      (エ) ジョージ・ブッシュ



4 2023年に起こった出来事について述べた問1～問3の空欄に当てはまる適切な語句や人名、名称等を、それぞれ答えなさい。

問1 7月11日 北大西洋条約機構、通称（NATO）のストルテンベルク事務総長は、トルコ大統領が（ ）のNATO加盟容認に転じ、国内手続きに同意したと明らかにした。

トルコとともに（ ）のNATO加盟に難色を示していたハンガリーも承認に動くことが確認され、（ ）のNATO加盟が実現することになる。

問2 9月1日 死者・行方不明者10万5千人以上という国内災害史上最悪の犠牲を出した（ ）から100年にあたるこの日、各地で慰霊行事や防災訓練が行われた。

問3 10月1日 自分の選んだ自治体に寄付をすることで所得税の控除が得られ、さらに自治体から魅力的な返礼品がもらえる（ ）納税のルールが厳格化された。

# 下書用紙



